

甲部:

在橫線上填寫「米」或「厘米」(1-5):

1. cm 表示 _____ , m 表示 _____ 。
2. 量度較短的東西可用 _____ , 量度較長的東西可用 _____ 。
3. 1 米 30 厘米應寫作 130 _____ 。
4. 賽跑和游泳比賽都是用 _____ 來計算長度的。
5. 繞球場的跑道走一周, 約走了 400 _____ 。
6. $385 = 300 + \underline{\hspace{1cm}} + 5$
7. $963 = \underline{\hspace{1cm}} + 60 + \underline{\hspace{1cm}}$
8. $420 = 400 + 20 + \underline{\hspace{1cm}}$
9. $307 = \underline{\hspace{1cm}} + \underline{\hspace{1cm}} + \underline{\hspace{1cm}}$
10. $\underline{\hspace{1cm}} = 500 + 80 + 7$
11. $\underline{\hspace{1cm}} = 0 + 90 + 8$
12. 把下列數字組成最大的三位數及最小的三位數。
 - a. 5 4 7
 - b. 9 2 7

最大的三位數: _____ 最大的三位單數: _____

最小的三位雙數: _____ 最小的三位數: _____

13. 計算下列各題:

(1) $\begin{array}{r} 362 \\ + 87 \\ \hline \end{array}$	(2) $\begin{array}{r} 244 \\ + 13 \\ \hline \end{array}$	(3) $\begin{array}{r} 712 \\ + 259 \\ \hline \end{array}$	(4) $\begin{array}{r} 683 \\ + 135 \\ \hline \end{array}$
()	()	()	()

(5) $100 - 49 - 51 = (\quad)$ (6) $783 - 154 - 321 = (\quad)$

(7) $580 - 432 - 18 = (\quad)$ (8) $756 - 154 - 202 = (\quad)$

(9) $206 + 455 - 361 = (\quad)$ (10) $190 + 260 - 323 = (\quad)$

14. 由大到小排列次序

(1) 1234 2345 3456 4567 5678 6789
 _____ > _____ > _____ > _____ > _____ > _____

(2) 1234 1345 1456 1567 1678 1789
 _____ > _____ > _____ > _____ > _____ > _____

15. 一張五百元的紙幣, 可以換五十元紙幣 () 張。

16. 一張一百元的紙幣, 可以換五元硬幣 () 個。

17. 一張五十元的紙幣, 可以換二元硬幣 () 個。

18. 45元8角 + 2元8角 = () 19. 75角4分 - 48角8分 = ()

20. 48角4分 - 69角8分 + 35元8角 = ()

21. $5 \times (\quad) = 45$ 22. $3 \times 9 = \underline{\hspace{2cm}}$

23. $35 \div 5 = \underline{\hspace{2cm}}$ 24. $48 \div 8 = \underline{\hspace{2cm}}$

25. $30 \div 4 = \underline{\hspace{2cm}}$ 26. $56 \div 6 = \underline{\hspace{2cm}}$

27. $7 \times ※ = 63$ $※ = \underline{\hspace{2cm}}$

28. $36 - * - * = 0$ $* = \underline{\hspace{2cm}}$

29. $(\quad) \times 10 = 61 - 1$

30. $4 \times (\quad) = 50 - 14$


31. $20 + (\quad) = 3 \times 8$

32. $4 \times (\quad) = 33 + 3$

33. 做一個五角柱體需要 粒膠泥和 枝竹枝。

34. 有 12 粒膠泥和 12 枝竹枝，(能 / 不能) 做一個五角柱體。

35. 細閱以下象形圖，並回答下列問題。



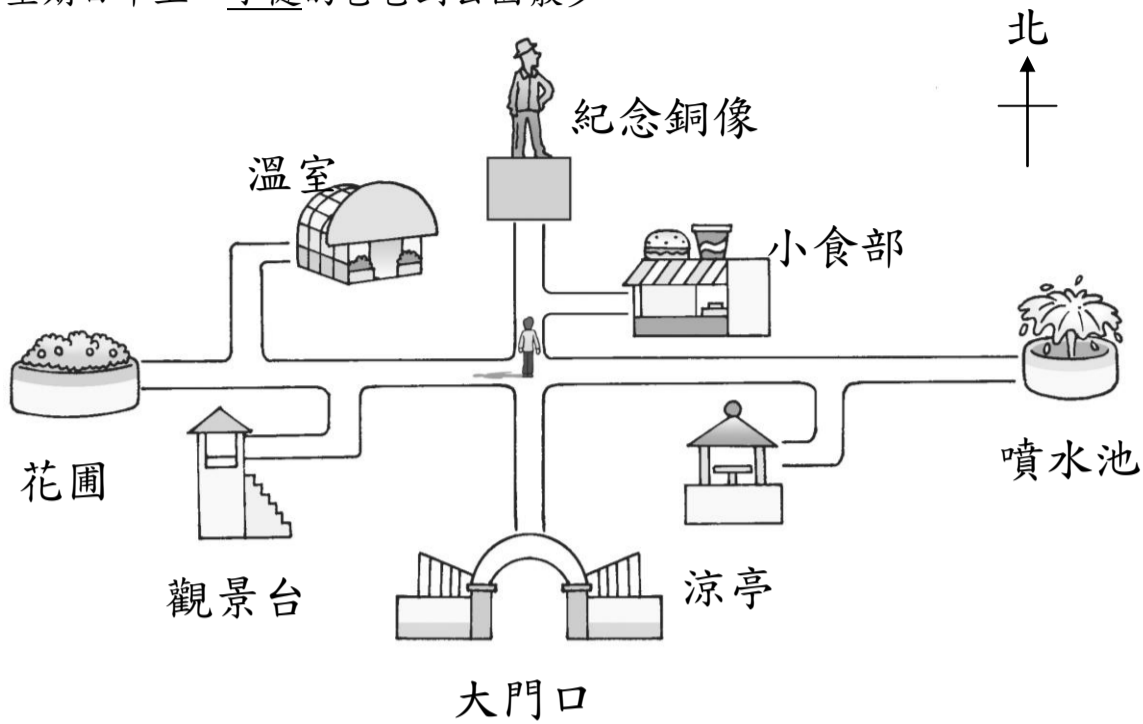
1. 最多人喜愛的花是 。

2. 有相同人數喜愛的花是 和 。
各有 人。





3. 參加統計共有 人。





乙部：

1. 星期日早上，子健的爸爸到公園散步。



1. 根據爸爸站立的位置，填一填，圈一圈。


(a) 爸爸的前面是 _____ 方，有 ( /  /  / )。


(b) 爸爸的後面是 _____ 方，有 ( /  /  / )。

(c) 早上太陽從 _____ 方升起，爸爸的影子向著 _____ 方。

(d) 爸爸往 ，要左轉 _____ 個直角，再向 _____ 方走。

(e) 爸爸往 ，要右轉 _____ 個直角，再向 _____ 方走。

(f) 爸爸往 ，所走過的方向是： _____ → _____ → _____

(g) 爸爸往 ，所走過的方向是： _____ → _____ → _____

計算下列各題：(不用列式)

1. 昨天賣出氣球 418 個，今天賣出氣球 385 個，共賣出氣球多少個？ ()

2. 哥哥儲蓄了 450 元，比弟弟多 198 元，問弟弟儲蓄了多少元？ ()

3. 每個花瓶有 5 枝花，6 個花瓶共有花多少枝？ ()

4. 媽媽身高 163 厘米，比姐姐高 48 厘米，姐姐的身高是多少厘米？ ()

5. 九隻兔子有多少隻腳？ ()

6. 五個長方形，共有多少個角？ ()
7. 小弟弟的身高比 1m 少 10cm，他的身高是多少 cm？ ()
8. 2A 班有學生 35 人，2B 班比 2A 班少 3 人，兩班共有學生多少人？ ()
9. 農場裏有 5 隻雞，6 頭牛和 3 隻貓，問農場裏的動物共有多少隻腳？()
10. 一本書有 180 頁，妹妹昨天看了 35 頁，今天又看了 40，問妹妹還剩幾頁沒看？ ()

列式計算下列各題：

直式

1. 3 分鐘可以做紙花一朵，做 6 朵紙花要多少分鐘？
2. 某校高年級學生植樹 485 棵，比中年級學生多植 160 棵，中年級學生又比低年級學生多植 130 棵，問低年級的學生植樹多少棵？
3. 某米行今天賣出白米 365 包，比昨天少賣 146 包，問兩天共賣出白米多少包？
4. 橙每個賣 5 元，42 元最多可買多少個橙？